

A LA DECOUVERTE D'UN VILLAGE LORRAIN VILLE SUR YRON

Votre nom:.....
Votre classe:.....
La date de votre visite:.....

Vous allez vous promener dans un ancien village lorrain.

Au cours de votre itinéraire, vous allez observer et découvrir la vie des villageois d'autrefois. Pour vous aider à comprendre cette vie ancienne, nous allons vous poser quelques questions.

Un château du XVIII^e (18^e) siècle (borne 1).

Ressemble-t-il à un château fort ?

Oui - Non (*)

.....

Pourquoi ?

.....

A quoi servait-il alors ?

à la guerre - à l'habitation (*)

.....

La charpente lorraine (borne 2).

Quel gros élément de bois soutient la charpente lorraine?

.....

.....


Comment reconnaît-on la charpente lorraine, sur une façade?


.....

.....

.....

Dessinez ici un **arbalétrier**.






Un pont ancien (borne 3)

Le pont sur l'Yron comporte plusieurs parties.

Citez en cinq:

Five empty rectangular boxes for listing parts of the bridge.



La rivière (borne 4)

A quels usages servait-elle

Two horizontal dotted lines for writing answers.

Donnez le nom de **deux arbres** des bords de la rivière.

One horizontal dotted line for writing answers.

Que faisait-on avec les branches des saules?

One horizontal dotted line for writing answers.



Le village rue
(à VILLE-AUX-PRES).



A Ville-aux-prés, le village s'ordonne le long d'une seule rue.

Les maisons se touchent-elles ? **oui - non (*)**

Comment s'appelle le **large espace entre les maisons et la rue**?

One horizontal dotted line for writing answers.

A quoi servait-il ?

One horizontal dotted line for writing answers.

Les matériaux de construction.

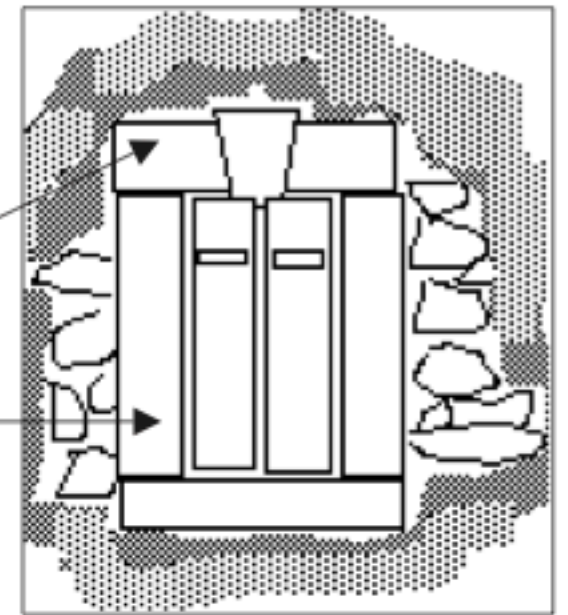
Quels matériaux sont utilisés pour construire les murs ?

One horizontal dotted line for writing answers.



Les entourages des portes et fenêtres sont en larges pierres.

Donnez leurs noms sur le croquis.



La façade lorraine.

Sur une façade, on reconnaît souvent **3 entrées**. Lesquelles ?

.....

Le nombre des **portes** varie avec la fortune des habitants.
Qui en possède le plus, le **laboureur** ou le **manouvrier** (*)?

.....

Pourquoi ?

.....



L'intérieur de la maison.

Dans une maison lorraine la **cheminée** avait plusieurs usages. Donnez en deux.



Le village-tas (borne 8) Ville sur Yron est construite **en tas**. 3 bâtiments dominant la ville.

Lesquels ?

Que représentent-ils ?



Le bâtiment →

Il représente →

Le moulin (borne 10)

A quoi servait le **moulin** ?

.....

Quelle **force** fait fonctionner la machinerie ?


.....

L'église romane du XII^e siècle (borne 11)

On reconnaît les **églises romanes** par la forme des ouvertures (porches et fenêtres).

Quelle est cette forme ?

Dessinez la.



La mairie républicaine (borne 12)

Pourquoi la mairie a-t-elle voulu un deuxième clocher ?

.....
.....

Que veut-on dire par école **publique** ?

.....
.....

